

## 旅游资源价值类

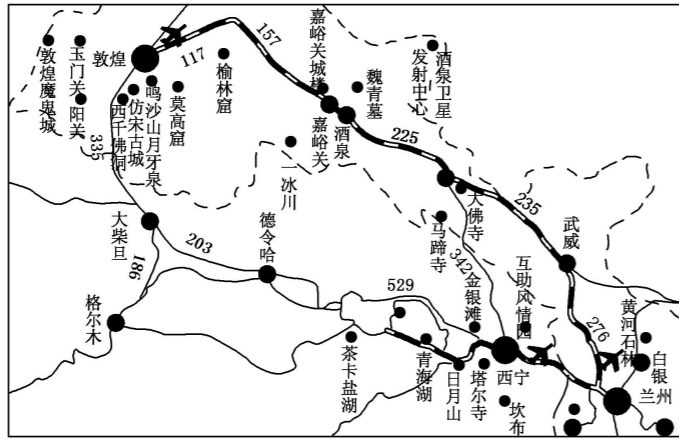
(2017 江苏南通模拟) 敦煌莫高窟是已有一千六百多年的大型石窟, 保留有精美绝伦的壁画、彩塑及从晋到宋近十个朝代的各种佛经、文书、帛画等珍贵文物, 是驰名中外的艺术宝库。

鸣沙山、月牙泉: 以“沙岭晴鸣”和“月泉晓澈”而著称于世。

嘉峪关: 万里长城西端终点, 地势险要, 巍峨宏伟, 是古丝绸之路的必经关隘。

酒泉: 泉水清澈见底, 澄碧如酒。有汉武帝赐御酒为霍去病击败匈奴庆功, 将酒倾倒在泉水之中, 泉水化为美酒的传说, 并以出产名贵工艺品夜光杯著称。

下图为西宁—兰州—敦煌一线旅游资源分布示意图。



(1) 根据旅游资源的本质属性分类, 敦煌莫高窟属于\_\_\_\_\_资源, 其最突出的资源价值是\_\_\_\_\_价值。(2分)

美学价值: 莫高窟、玉门关等体现了技术美、协调美, 鸣沙山、月牙泉等给人以听觉美、形象美的感受。

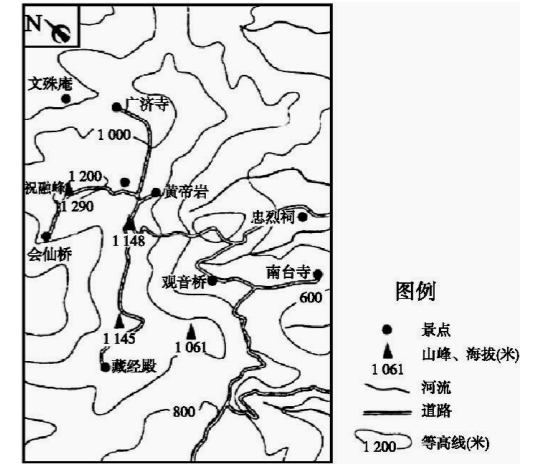
科学价值: 鸣沙山为何能发出声音, 月牙泉为何千百年来没被掩埋, 这就为研究当地的气候、地形、风积地貌、地下水所处的地质条件等提出了研究课题, 所以具有重要的科学价值。

历史文化价值: 莫高窟的建设、雕塑、壁画是人类历史上遗留下来的文物古迹。对于研究不同历史时期的社会、经济、文化艺术、工程建筑等, 具有重要的历史文化价值。

经济价值: 丝绸之路的开发吸引了中外游客, 既可以促进旅游经济的发展, 又可以带动相关产业发展, 具有很大的经济价值。(每个价值2分, 任举两个例子给2分)

(2011 年海南卷) 衡山蜿蜒分布于湘江西岸。“祝融峰之高, 水帘洞之奇, 方广寺之深, 藏经殿之秀”, 被称为“衡山四绝”。古人乘船观赏衡山有“帆随湘转, 望衡九面”之说。下图示意衡山中心景区。读图文材料, 简述衡山的优势旅游资源。(10分)

历史名山, 是五岳中的南岳; 文化底蕴深厚(多古迹、寺庙); 位于亚热带, 降水丰富(多流泉飞瀑, 多云雾); 植被繁茂(观赏植物种类多); 山地景观多样, 风光壮丽。(10分)



## 资源开发评价

雪乡原为双峰林场, 雪乡双峰景区原来也只是林场工人的住宅区。距离牡丹江 170 公里, 距离哈尔滨 280 公里, 占地面积 500 公顷, 整个地区海拔均在 1200 米以上。雪乡在 1999 年才建成一个初级滑雪场。2013 年因湖南卫视在此拍摄了《爸爸去哪儿第一季》最后一站之后, 雪乡的知名度得到了迅速的提升, 旅游也热起来了, 其旅游业带来的收入倍增。

2017 年从一篇《雪乡的雪再白也掩盖不掉纯黑的人心! 别再去雪乡了!》的文章发表开始, 到主流媒体报道黑心店家的坑人行为, 直至最后以当地旅游局对黑心店家进行处罚、官方媒体公布事件处理结果为结束。整个过程, 着实是让雪乡彻底底火了一把。

试分析“雪乡”在旅游开发方面的劣势。

【答案】以“冰雪”为主体的旅游资源的独特性不够突出, 与东北其他地区存在同质化现象; 开发转型时间较短, 未能与其它旅游资源有机结合形成规模; 地理位置相对偏远, 交通条件不够便捷; 与南方主要客源市场距离远; “冰雪”特色导致旅游季节性强, 旅游设施和服务的利用率低; 现有旅游接待等硬件基础设施不够完善; 气候条件恶劣, 旅游环境容量小; 在人员培训和规范经营等方面重视不够, 缺乏有效的监管制约机制等。



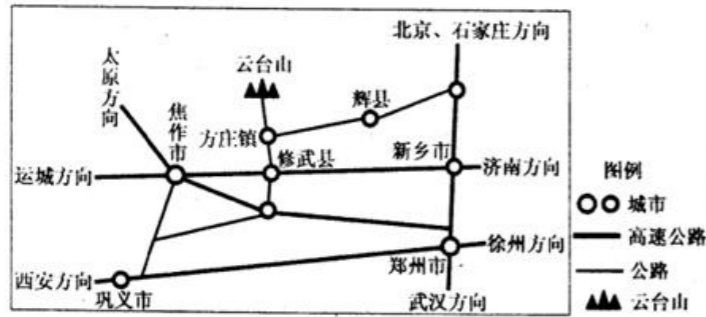
(2017 年衡水中学) 芬兰北部的萨利色尔卡位于北极国内, 是一块尚未遭到人为破坏的荒原地, 也是地球上最北的旅游胜地。这里有度假村、庄园、黄金博物馆、酒店、教堂等设施。由首都赫尔辛基搭飞机前往萨利色尔卡仅需 1 小时 40 分钟, 也可乘特快列车再转乘汽车到达。芬兰萨利色尔卡的豪华雪屋酒店为顾客提供了一睹壮丽北极光的最佳方式。下图为雪屋示意图。



指出萨利色尔卡观赏极光的最佳季节，并简述萨利色尔卡发展旅游有利条件。(10分)

季节：冬季。(2分) 条件：旅游资源独特，质量高，符合人的探奇心理；旅游基础设施较齐全；交通较为方便；接近欧美发达地区，市场广阔。(8分)

(2016年雅礼中学) 云台山是河南省唯一一个集国家5A级景区、国家地质公园、国家森林公园、国家水利风景名胜区和国家猕猴自然保护区于一体的风景名胜区，山中还留有众多名人墨客的碑刻、文物，这又使云台山具有了丰富的文化内涵。下图示意云台山附近交通线路分布。



简述云台山景区旅游资源开发的有利条件

开发条件：旅游景观类型多样，游览价值高；(2分) 景区周围高速公路通达度高；(2分) 周边经济发达城市多，客源市场广阔。

材料一 黄山，古称黟山，黟县因山而得名。黟县境内连绵的群峰与黄山连为一体，在历史上曾阻碍了古黟县与外部世界的交往，造就了黟县“世外桃源”般的生态环境。黟县境内至今仍有保存完整的古民居3600幢，为皖南之首。西递、宏村、南屏、关麓、屏山等古民居建筑村落布局严谨，工艺精湛，具有强烈的徽州文化特色，其中西递、宏村已被联合国教科文组织列为世界文化遗产。

材料二 2005年11月8日首届“中国乡村旅游节”在黄山市世界文化遗产地黟县宏村召开，发起成立了跨省区域间古徽州乡村旅游联盟，努力打造“中国乡村旅游”第一品牌。在古徽州的大地上，有保存完整的古村落、优美的自然风光、良好的生态环境和浓厚的徽州文化底蕴，是发展乡村旅游的胜地。

(1) 简要评价安徽黟县发展乡村旅游的条件。(4分)

(1) 古民居文化内涵丰富，风光秀美，资源质量高；临近黄山等景点，有利于发挥集群效应与地域组合功能；距经济发达地区近，客源市场广阔，交通便利。

(2018全国市级联考. 山东) 摄影旅游是一种新兴的旅游方式。每到冬季，一些摄影爱好者就会前往加拿大落基山脉东侧的冰泡湖，这里称为全球最具摄影价值的拍摄地之一。寒冬，湖床植物释放气和湖面低温形成一个个不规则的冰泡，在亮蓝色的冰面下不断堆叠，布满湖面(如图)。强劲的寒风中摄影师或趴在冰面，或追逐朝霞、日落、极光和满天星斗，摄影构图元素丰富壮美。

分析该地发展冬季摄影旅游的优势条件。

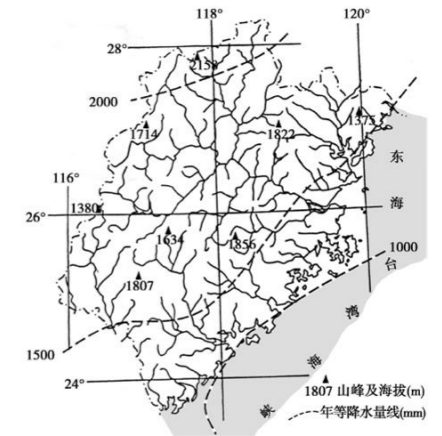
湖区冰泡景观以有独特性；有北极光、霞光、雪山、湖泊等，景观丰富多样，便于取景构图；冬季晴朗少雨，空气质量好，拍摄画面清晰；水质清澈，水中冰泡画面清晰；气温低，湖面坚固，便于拍摄；城市人口和建设规模较小，夜晚人工光源对星空影响小。



(2018全国市级联考. 山东) “休闲渔业”旅游模式是指

走进海洋、江河、湖畔等“水乡渔村”，结合旅游景点、综合开发渔业资源，“住江边、玩水面、食水鲜”，既有垂钓、餐饮，又能游览观景、休闲、度假的一种旅游业和渔业相结合的发展方式。2017年7月24日，福建省旅游局评审的第十批“水乡渔村”名单正式出炉，共有13家申报单位入选。至此，全省共创建“水乡渔村”150家。简述福建省发展“休闲渔业”旅游模式的有利条件。

福建省地处沿海地区，海岸线漫长曲折；降水量多，地形起伏大，陆地水域类型多样；水生生物种类丰富，经济价值高；福建省及附近地区经济发达，人口众多，旅游市场潜力大；交通便利，基础设施完善，地区接待能力强。



浙江长兴县顾渚村，因唐代茶圣陆羽在此撰写《茶经》和盛产唐代贡品—紫笋茶、金沙泉水而闻名于世被誉为“中国茶文化的发源地”。全村人口2500多人有农家乐400多家，游客包吃包住每人60-100元/天。2016年接待游客300万人次，7成成为上海人，其中又以老年人居多。老年人喜欢到顾渚村农家乐小住一段时间从十天半月到大半



年不等。经过多年发展，顾渚村形了“农家乐+养老”模式，被评为浙江省老年养生旅游示范基地。右图为浙江长兴顾渚村概况。

依据以上资料分析顾渚村适合老年养生旅游的条件。(10分)

距离上海、杭州等大城市近，交通便捷，车程短；森林覆盖率高，空气质量好，乡村生态环境优良；生活节奏慢，居民性格淳朴，旅游成本低；有农事采摘、茶文化体验等，适合老年养生旅游的项目丰富；有农家乐400多家，基础设施完善，接待能力强。

位于我国最东北部的黑龙江省拥有得天独厚的生态化资源优势 and 朴实厚重的黑土地文化，旅游资源丰富，拥有镜泊湖、兴凯湖、五大连池等众多世界及国家级风景名胜区以及极具特色的地域文化旅游资源。近年来，随着我国人口老龄化的快速发展，老龄产业也遇到了难得的发展机遇。黑龙江省以此为契机，凭借自身充分的医学医疗和护理资源，发挥优势，致力打造“夏季养老胜地”，大力发展“候鸟式”旅游养老产业。“候鸟式”旅游是一种特殊的养老方式，像鸟儿一样随着气候变换选择不同的地域环境生活，也就是随着季节变化，选择不同的地方旅游养老。这种“候鸟式”旅游模式目前颇受部分老年人欢迎。

结合所学知识，分析黑龙江省发展“候鸟式”旅游养老有何优势条件？(10分)

黑龙江省位于我国最北端，夏季凉爽舒适，天然林地、湿地面积大，空气中负氧离子含量高，空气质量好，气候适合“候鸟式”旅游养老；优越的自然环境适合绿色、有机农产品的生产，充分满足老年人对健康饮食的要求；境内拥有丰富且优质的自然与人文旅游资源，满足老年人的晚年精神需求；拥有充分的医学医疗和护理资源，可以为旅游养老提供充足的医疗服务保障。(10分，每点2分)

## 特色旅游之农业旅游

3. 农业旅游作为一项新的旅游项目，已成为世界潮流。20世纪60年代初，西班牙农场主把自家房屋改造装修，接待游客前往观光度假，被认为是农业旅游的起源。后来又向深层次发展，游客不仅“看”而且“干”，由过去欣赏结果，变为参与过程，真正体验农活的“原汁原味”。如今，在一些国家或地区出现了更高级的农业旅游形式：租地自种。下图为农业旅游景观图。



指出上图中农业旅游体现的突出特色，并简析我国发展农业旅游的意义。(10分)

3. 【答案】特色：农村自然或人文景观(2分)、农业产业特色(2分)。

意义：调整和优化农业结构，延长农业产业链；促进农民就地就业，增加农民收入；加大城乡交流，缩小城乡差别；是解决“三农”问题的途径之一。(每点2分，答出3点即可)

## 特色旅游之农家乐(农业)

农家乐是一种新兴的乡村旅游形式，多分布在距离城市较近的农村或城乡结合部，是传统农业与旅游业相结合而产生的一种旅游项目。一般来说，农家乐的业主利用当地的农产品进行加工，满足客人的需要，成本较低，消费也不高，对长期生活在城市中的人产生了极大的吸引力。就以上材料回答下列问题。(10分)

(1) 概括农家乐这一新兴旅游项目产生的条件

(2) 列举国内农家乐旅游目前存在的问题。

(1) 城市消费群体庞大；人们生活水平逐渐提高；闲暇时间不断增多；“文明病”、“城市病”不断加剧；旅游需求多样化 (2) 分布分散、规模小，缺乏规范管理；基础设施落后，服务水平较低；食品、卫生等安全问题突出；缺乏鲜明的特色

(2016年广东佛山二模) 近年来，“采摘游”在一些大城市周边地区兴起，成为旅游业发展的新亮点。浙江建德市是全国最大的大棚草莓生产基地之一，阳春三月，天气渐暖，大量游客来到这里，摘草莓、尝草莓、赏美景。草莓是一种营养价值很高，颇受人们喜爱的鲜食水果。分析建德市草莓采摘点的分布特点及近年来“采摘游”迅速发展的原因。

由于游客多来自周边地区，为了方便自驾游客的采摘(2分)，草莓采摘点主要分布在交通干线两侧(2分)。

原因：靠近长三角经济发达地区，市场距离较短；人们生活质量提高，对休闲娱乐体验旅游的需求增加；附近旅游景区数量多，地域组合好，对游客吸引力大；有高速公路、国道等，交通通达度好。(每要点2分，答对其中三点得6分)

## 旅游过年

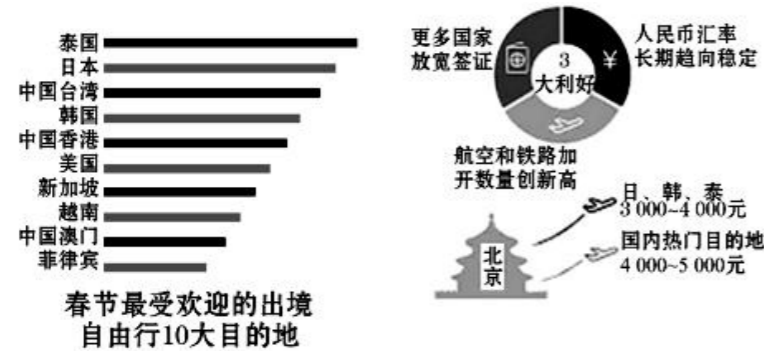
2018年1月，中国旅行社协会联合多家机构发布了《2018年春节黄金周旅游趋势报告》、《2018年春节黄金周出境旅游价格指数》两份报告，其中指出，目前，我国游客旅游消费不断升级，旅游过年逐渐成为新常态，出游方式也从传统的团队观光旅游向休闲度假旅游转变，尤其是出境游在今年春节有望成为更多家庭出行的首选。

简析旅游过年逐渐成为新常态的主要原因。

随着全球化的深入发展，人们回家过年的传统观念逐渐减淡；现代人工作节奏快，平时没有时间，春节为我国法定节假日，国民普遍放假且放假时间较长；随着中国经济的快速发展，国民收入提高；我国现代服务业发展水平较高，即使在春节期间，各行各业仍能为旅客提供服务。

(10分)

世界旅游组织数据显示，自2012年起中国连续多年成为世界第一大出境旅游消费国。下图为某旅行网发布《2016春节自由行趋势报告》的相关材料。



试分析近年来我国游客春节赴境外旅游成为常态的主要原因。(10分)

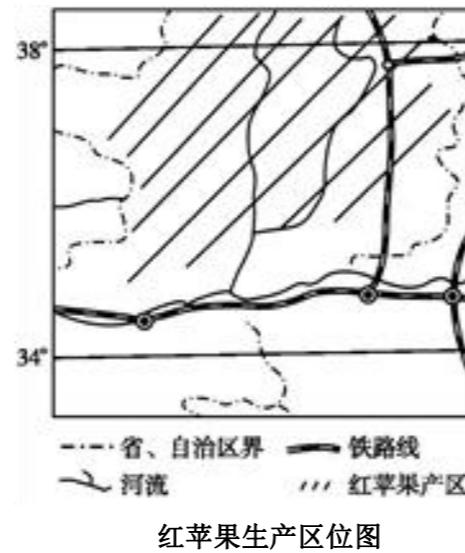
国民收入和生活水平提高，人们生活方式和观念发生改变；去周边国家飞机飞行时间比较短；目的地气候温暖适宜；一些国家签证政策放宽；我国境内外商品价格差较大等。(每点2分，共10分)

中国革命圣地延安巧打“红色旅游”和“红苹果”两张王牌，舞起特色产业龙头，“双红”促进了本地经济发展，也成为延安走向全国、走向世界的名片。读材料，完成下列问题。【2017秋湘教版高中地理选修3】(8分)

(1)为进一步拓展旅游资源，增加经济效益，当地计划在苹果园中开展农村特色游，你认为何时去游览最佳？为什么？(4分)

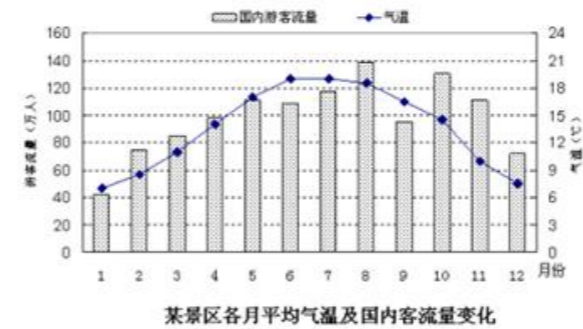
(2)在苹果产区分布的最具当地地方特色的人文旅游资源是什么？对其观赏的最佳办法是什么？(4分)

- (1)春季(2分)，春暖花开季节，一片花海，观赏性极强。  
(或秋季，果实成熟季节，给人以丰收的喜悦。(2分))
- (2)窑洞(2分)。身临其境，亲身入住，实地体验。(2分)



## 反季节旅游

季节性是旅游产业最重要的特征之一，对旅游业发展具有至关重要的影响，最显著的表现是在较短的特定时间内集中了大规模的客流，从而产生了旅游旺季和旅游淡季(如图)。“反季旅游”也称淡季旅游，是指避开旅游高峰时节进行的旅游活动。



说明发展反季旅游的好处并提出促进反季旅游发展的措施。(10分)

好处：减轻旅游旺季旅游景区的生态负荷和接待压力；提高旅游景区淡季服务设施的利用率；增加旅游景区淡季的收入来源；节省游客的旅行费用(交通、餐饮、住宿、门票等)；提高游客的旅游舒适度。(答对3点得6分)

措施：采取灵活的休假制度，错开旅游旺季出行；加强旅游资源和旅游线路的整合，推出淡季特色旅游项目；在淡季降低景区门票等费用；加大景区宣传推介力度，及时发布旅游信息。

## 全域旅游

全域旅游是旅游产业的全景化、全覆盖，是资源优化、空间有序、产品丰富、产业发达的科学的系统旅游，全域旅游的发展应以创新为灵魂，以品质为保障，以环保为基础，因各区域地理环境的差异，使各区域全域旅游发展的模式、风格、改革方式和实施路径不尽相同。在我国一些欠发达西部地区，如贵州省盘县，推出政府主导的全域旅游模式。

盘县是贵州西大门，地处滇、黔、桂三省结合部，有着独特的区位、交通、资源和大企业集中等优势，被誉为“滇黔锁钥”、“川黔要塞”、“金三角”及世界古银杏之乡。历史文化悠久，民族风情深厚，自古即为商贾云集之所，财富物丰之地。荣获“全国最美生态旅游示范县”和“美丽中国示范县”称号。同时是贵州省首个列入全国百强县行列之一。

浅谈盘县在推进全域旅游过程中所采取的举措。(10分)

政府加强引导，做好旅游资源的规划设计和运营管理；鼓励企业和社会的全方位参与，增加资金和技术投入；利用地理位置优势，完善交通等基础设施建设，将资源串联整合起来；保护好生态环境和旅游资源；努力提高服务品质，突出地方特色；加快与旅游相关产业的发展，增加产业附加值；完善基础设施，提高地区的服务接待能力



2009年10月31日晚，长江隧桥正式通车，去崇明岛旅游的游客越来越多，2010年1至6月崇明岛共接待游客227.5万人次，同比增长了306%。根据所学知识回答下列问题。(10分)

(1) 崇明岛旅游定位于“生态旅游”。请分析崇明岛发展生态旅游的条件。(4分)

(2) 长江隧桥开通引发了崇明岛旅游热潮，试分析近期崇明岛旅游业面临的问题，并提出改进的合理化建议。(6分)

(1) 崇明岛是长江的河口沙岛，岛上有湿地、鸟类自然保护区、森林公园和生态农业等有利于发展生态旅游的景观。(4分)

(2) 人流过多，超过了该地旅游接待能力，造成环境污染，破坏湿地生态环境，威胁动物栖息与生存。(3分) 合理建议：加强管理，通过对崇明岛旅游环境容量的测定，实施参观时间分流、限定参观人数等措施。(3分)

(2014年课标2) 某学习小组在探讨“老工业区如何转型”的活动中，发现德国鲁尔区在转型过程中，利用原有的生产设备等工业遗产资源，开发了能够吸引人们了解工业文明和工业化历史，具有独特观光、休闲等功能的工业遗产旅游产品。

请提出老工业区的工业遗产资源，并设计老工业区工业遗产旅游项目。

工业遗产资源：老工业区的厂房、车间等建筑，以及生产设备、工艺、流程、管理等工业遗产和遗迹。

工业遗产旅游项目：参观老工业区的厂房、车间以及工业遗产博物馆；利用多媒体手段再现原生产生活实景；体验原生产流程等；在由老厂房改造成的餐厅、酒吧、画廊等场所消费、休憩。

(2017课标3) 负地形是指从地面向下发育的地形，发育程度越高，高差越大，重庆武陵地处乌江东南缘，其喀斯特景观以负地形(峡谷、溶洞、竖井等)高度发育著称，2007年被联合国教科文组织列入世界自然遗产名录。(10分)

请指出武陵喀斯特景观特点对旅游活动的不利影响，并提出应对措施。

不利影响：武陵地区喀斯特景观的负地形高度发育，旅游路线高差大，交通困难，安全隐患多。

措施：控制人、车流量；增设电梯等设备；增加安全防护措施；设置安全警示牌；增加安全疏导人员。

## 自驾游

清代皇家猎苑——木兰围场，它地处内蒙古高原、黄土高原与华北平原交界处，东起喀喇沁旗的茅荆坝，西至涿源县的空中草原，环北京半圈，宛若一道大坝。纵横交错的地形，集合了北方所有具有代表性的景色，春天鲜花满地，夏天水草丰茂牛羊成群，秋日层林尽染，冬日白雪铺地。这里交通四通八达，每年这里都吸引了大量的游客，尤其是北京及附近的游客自驾来观光旅游。

分析木兰围场吸引北京及附近的游客选择自驾游的原因。

木兰围场距北京较近，交通便利，利于驾车游览(2分)；自驾游可以自行规划路线，自主性强(2分)；北京及附近地区经济较发达，居民收入高，支付能力强(3分)；木兰围场具有独特的历史文化价值和优美的自然风光，资源优势明显。(3分)

## 特色游

非景点旅游，是指人们为了放松休闲、愉悦身心，不以游览景区景点为目的，而是以享受旅途本身为目的，以随性而游、兴尽而返方式进行的一种自助旅游。其中乡村旅游的火爆就是一个缩影。伴随大众旅游时代的到来和现代旅游业的发展，原有的景区景点旅游模式已经无法适应新的形势和需求，当前我国旅游结构中，非景点旅游占比达到80%。

分析非景点旅游必起的主要原因及意义。(10分)

原因：旅游景区人满为患；景点门票价格过高；游客需求层次的提高；人们旅游方式个性化和多样化的需求。意义：有利于纠正旅游业开发的过度商业化倾向；有利于实现旅游业的转型升级；有利于促进旅游市场的繁荣等

低碳旅游是一种倡导低碳饮食、低碳住宿、低碳旅行、低碳游览、低碳娱乐、低碳购物的旅游消费活动，而贯穿其中并居于核心地位的是旅游者的低碳意识。下表为某旅游景区基础设施概况，读表并回答下列问题。

我国某景区基础设施概况表

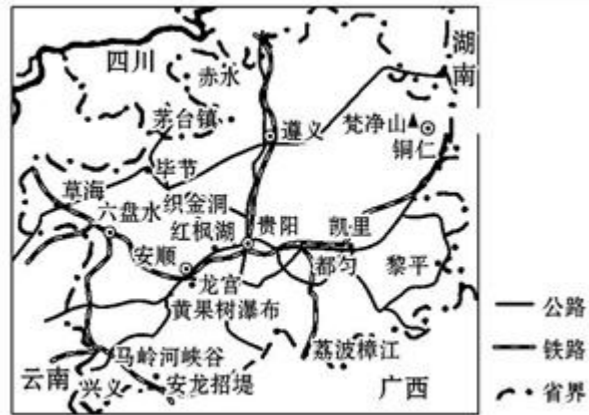
景区交通	两条线路，一是人行栈道；二是公路，为大型观光车用，票价10元。
景区餐饮	绿茵山庄，枫叶山庄
景区其它服务设施	垃圾桶随处可见；厕所沿线适当位置均有设置，无专门净化处理设施。
景区软环境	景区内除票务员外，其它工作人员较少。

针对地区低碳旅游发展战略试提出合理化建议。(10分)

取消大型观光车游览或提高票价，鼓励游客步行或骑自行车浏览，设立自行车租赁点；景区内餐饮业能耗和污染较大，建议移到景区外部，游客可用环保袋自带食物游览；景区内张贴低碳环保提示语，垃圾桶合理安放，为厕所安装净化处理设施；增加景区内保洁和管理人员，及时清除景区内游客游览垃圾，对景区原有落叶等可保留；对游客加大低碳出行宣传，为游客做好低碳出行参考服务等。(每点2分，满分10分。符合题意的答案合理即可给分)

材料一 穷游是近年来新出现的一种性价比较高的旅游方式，指的是花最少的钱，享受到最大价值的旅游。家住昆明的某高三学生，计划2018年高考结束后，和好友以穷游的形式到外地游玩半月。经过反复论证，最后选择去贵州旅游。

材料二 贵州主要旅游景点分布图。



请说出该学生选择贵州作为穷游目的地的理由。(10分)

昆明距离贵州近；有(贵昆)铁路线连接两地，交通便利，费用较低；贵州省旅游资源丰富，类型多样，集群状况好，游览时间可满足半个月的时长要求；各景点相距近，旅游景点的地域组合状况好，景点的游览价值高；当地消费水平低，费用低。

### 旅游的问题

(2013 课标 1 卷) 阅读图文资料，完成下列要求。

2012 年 6 月 21 日，我国正式公布在海南省建立三沙市，管辖西沙群岛、中沙群岛、南沙群岛的岛礁及其海域。三沙市以其独特的旅游资源优势，强烈地吸引着游客。图 11 示意三沙市的地理位置。

说明三沙市旅游资源的独特性及当前旅游开发中应注意的问题。(10分)

独特性：热带海域风光；岛礁(珊瑚礁)景观。(4分)

应注意的问题：做好旅游规划；保护海洋生态环境；适当配置旅游服务设施，保障生活用品供给；处理好旅游环境容量与旅游规模的关系。(6分)



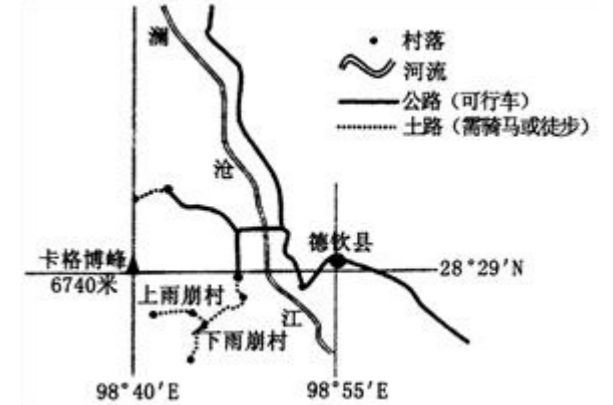
图 11

位于横断山区梅里雪山中部狭长河谷地带的雨崩村(分为上雨崩和下雨崩)，有着得天独厚的自然景观和独特的藏族文化，不少驴友选择9~10月间徒步雨崩村。下图示意德钦县雨崩村位置。

说出驴友徒步雨崩村多选择9~10月间而不选择7~8月间的原因并分析雨崩村旅游资源开发可能面临的问题。(10分)

9~10月间，气候凉爽，降水降少，适宜徒步；7~8月间是雨季，降水多，且易发生地质灾害，交通不便。(4分)

可能面临的问题：①雨崩村未通公路，只有土路，交通不便；②地处偏远地区，远离东部经济发达地区，市场距离远；③旅游配套设施落后，地区接待能力差；④高海拔地区生态环境脆弱，环境承载力低。(任答其中3点，计6分)



《爸爸去哪儿》让全国许多人认识了云南“普者黑”。

“普者黑”地处云南东南部，海拔1458米，以“水上田园、湖泊峰林、彝家水乡、岩溶湿地、荷花世界、候鸟天堂”六大景观而著称。这里既有桂林山水的灵秀，又有江南水乡的古朴神韵，还有杭州西湖波光潋滟的明丽，更有比荷花淀还要浩荡的万亩荷花，乘船在荷塘间打一水仗可以体验“湿身”的清凉与欢乐。(10分)



(1) 云南普者黑最佳旅游时间为6至9月，根据材料请说明理由。(4分)

(2) 根据云南普者黑自然环境特点，指出旅游者需要携带的生活用品，并说明理由。(6分)

(1) 该段时间荷花盛开风景优美(2分)；夏季气温较高，利于打水仗(水上项目进行)(2分)；高原地形利于避暑(2分)。(任答两点给满分4分，其它答案言之有理酌情给分)

(2) 高原地形(海拔较高)，昼夜温差大，带御寒衣物(2分)；太阳辐射强，注意防晒，带太阳帽、太阳眼镜、防晒霜等(2分)；为了防止打水仗受潮，多带衣服替换或携带雨衣等(2分)。(任意两点得6分，其它答案言之有理酌情给分)

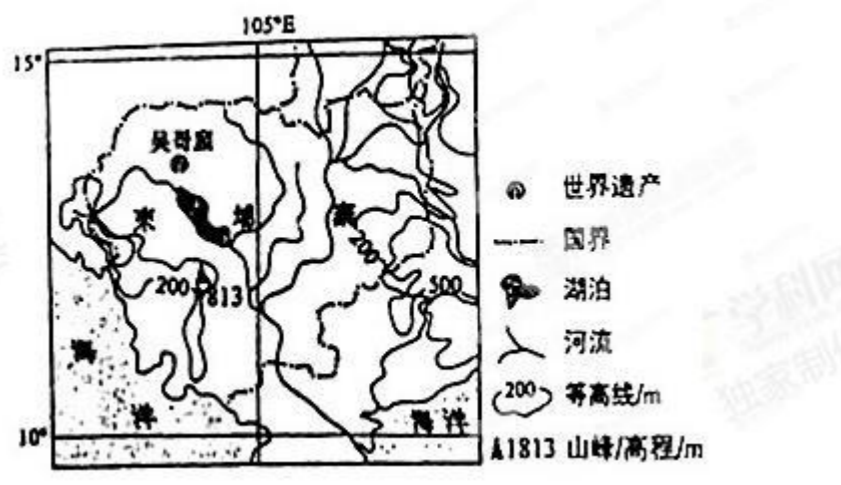


“中国天眼”，位于贵州省黔南州平塘县克度镇绿水村“大窝凼”洼地。“中国天眼”为500米口径球面射电望远镜（简称FAST），是具有我国自主知识产权、世界最大单口径、最灵敏的射电望远镜。以射电望远镜台址为圆心，半径5公里区域内，严禁设置、使用无线电台，严禁建设产生辐射电磁波的设施；景区免费对外开放。

说出“中国天眼”景区对游客开放应注意的问题并说明原因。（8分）

“中国天眼”作为旅游景点，范围小，旅客容量少（2分）；作为科研基地，必须有安静的环境（2分）；因此，必须严格控制参观人数（2分）；射电望远镜对无线电环境要求高，不能有无线电干扰，游客不得把手机、相机等电子设备带入景区（2分）

吴哥窟是世界著名的人文建筑旅游景点（位置见图）。吴哥窟曾被遗弃长达400多年，20世纪初，人们开始对吴哥窟进行修复。吴哥窟已被列入世界文化遗产和濒危世界文化遗产名录。

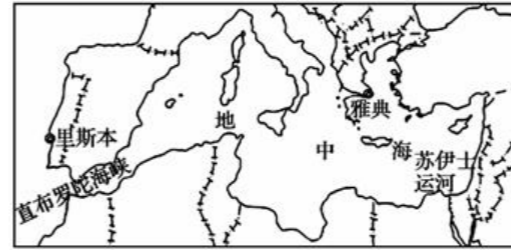


分析吴哥窟古建筑易遭受的自然威胁。（必做）

地处低纬度（热带）地区，高温多雨，风化、侵蚀作用强；（4分）植物繁茂，植物根系对建筑物破坏作用强；（2分）蚊虫繁殖快，蛀蚀作用强；（2分）地势低平，易遭洪涝。（2分）

### 旅游的比较

地中海北靠欧洲、东邻亚洲，通过直布罗陀海峡、苏伊士运河与大西洋和印度洋相连接，据相关统计资料显示，地中海北岸旅游业比东岸更为发达。下图为地中海及周边地区略图。



分析地中海北岸旅游业发达程度明显高于东岸的原因。（10分）

地中海北岸经济发达，旅游资源丰富、多样、独特，对游客具有强烈的吸引力；交通等旅游相关基础设施完善，接待能力强；距离客源地近；地中海东岸经济落后，旅游投入少，设施建设少；东岸社会治安混乱，政治局势动荡

### 旅游业的特点

南极，这个与世隔绝的冰清玉洁之地，有着让人震撼的古老冰川，有着让人欢喜可爱精灵，有着让人惊叹的原生态大陆……南极虽然冰冷，但是这里的旅游业却一片火热，普通人去南极，不再是梦想，每年都有来自世界各地的游客奔赴冰雪世界，寻找最不同寻常的体验，至2015年新春，我国国内已有多家旅行社开通了到南极的旅游路线。

读材料，南极旅游的兴起表明了现代旅游业有何特点？南极旅游在我国的兴起与哪些因素有关？（10分）

特点：旅游空间的扩大化（4分）。因素：经济的发展，人们收入的提高；科学技术的进步；人们求知、探秘和猎奇欲望的增长；交通工具的发展。（任答3点，得6分）

### 旅游资源成因

吉林雾凇岛因雾凇多且美丽而得名。这里的地势较吉林市低，又有江水环抱。该景区冬季里几乎天天有树挂，有时一连几天也不掉落。

分析雾凇岛冬季易形成雾凇的原因。

因有江水环抱，该岛空气湿度大；冬季强烈冷空气南下，气温急剧下降，水汽凝结在树枝上，形成雾凇景观。



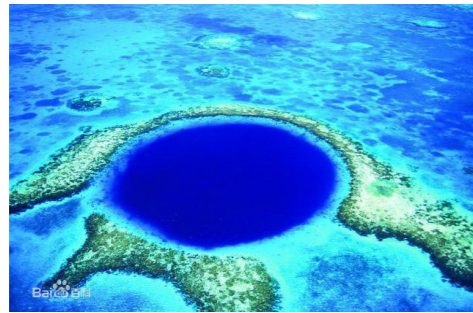
第32届世界遗产大会上，三清山花岗岩峰林地貌被列为世界遗产。2017年4月15日清晨，三清山风景区核心景区标志性景观“巨蟒出山”的巨型石柱上有人擅自使用攀岩工具在地质遗迹点钻孔、打岩钉、攀爬，风景区党委、管委会第一时间组织景区管理局、公安分局、消防大队等部门人员赶赴现场，制止3名驴友擅自攀登行为并采取救助措施，现已将他们安全带离。

(1) 简述“巨蟒出山”形成的地质过程。

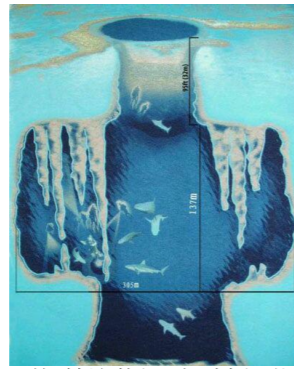
(1) ①岩浆侵入地壳冷凝形成花岗岩；②地壳运动导致岩层断裂抬升形成山体；③长期外力侵蚀使花岗岩露出地表；④花岗岩经风化作用形成巨型石柱。



“蓝洞”是灌满水的洞穴，从高处俯瞰，深洞呈现与周边水域不同的深蓝仿佛深邃的眼睛，吸引着人们前去探险。位于委内瑞拉灯塔碟的伯利兹大蓝洞是最为著名的蓝洞之一，其洞穴形成于冰川时代末期（寒冷的气候将水冻结在地球的冰冠和冰川中，海平面大幅下降），当时是滨海陆地的一个大洞穴，是一个垂直的洞穴。研究显示，其周边组成物质为石灰岩。



伯利兹蓝洞景观图



伯利兹蓝洞地质剖面图

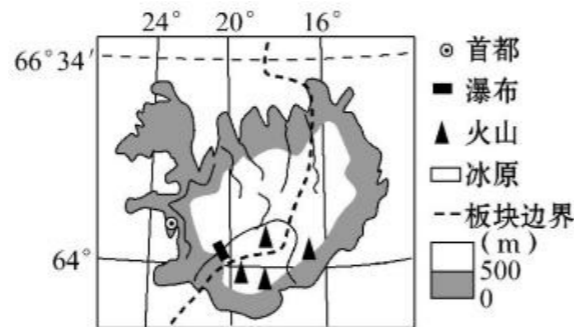
指出最佳体验伯利兹大蓝洞的游览的方式，并简述该大蓝洞形成的主要过程。(10分)

深入洞穴潜水（探险）、空中俯瞰（乘坐热气球、飞机游览）(2分)

冰川时代，海平面下降；此处为石灰岩地貌，受到侵蚀（溶蚀）而形成洞穴（地下溶洞）；多孔疏松的石灰质穹顶因重力、地震等原因坍塌出一个近乎完美的圆形开口，成为敞开的竖井。

冰期过后，气温升高，海平面上升，洞穴被海水覆盖。(8分)

下图为冰岛略图。冰岛是北大西洋中的一个岛国，位于大西洋和北冰洋的交汇处，北欧五国之一。冰岛自然风光独特，是世



界著名的旅游胜地。(必做)

说出能体现冰岛特色旅游的自然景观并解释形成原因。(10分)

①火山地貌、地热温泉景观——位于板块张裂处，岩浆活动频繁；②冰川地貌、苔原景观——纬度高，气温低；③瀑布景观——地形起伏大，河流众多；④峡湾景观——海岸线漫长，冰川侵蚀作用强烈；⑤白夜、极光景观——位于北极圈附近，纬度高。(每点2分，共10分)

### 对旅游业发展的影响

2014年4月10日，由黑龙江、吉林、辽宁三省多家景区组成“东北旅游景区联盟”。联盟打破行政区划的约束，共建区域旅游一体化主题，整合联盟成员间资源，合力发展，形成“聚力”。简述“东北旅游景区联盟”对该区域旅游业发展的影响。(10分)

省区间资源优势互补与共享，提升旅游资源的品牌价值（吸引力）；节约宣传成本；共享基础设施，节约成本；共享（客源）市场等。(每点2分)

智慧旅游，就是利用互联网等新技术，借助便携的终端上网设备，主动感知旅游相关信息，并及时安排和调整旅游计划的全新旅游形态。下图为某游客手机APP上显示的“徒步漓江”线路图。

分析桂林市发展“智慧旅游”的主要条件及其对旅游业发展的重要作用。(10分)

条件：桂林市旅游资源独特（丰富），知名度高；互联网技术的发展和智能手机的普及；政策支持。(任答2点，4分)

作用：为游客的旅游活动提供便利条件；为管理者减轻旅游资源、旅游设施、旅游安全、旅游环境等管理上的压力；为旅游企业提供更高效的营销平台和广阔的客源市场。

阅读材料，完成下列问题。【全国百强校2018届高三上学期期末考试地理试题】

2017年1月27日除夕之夜，在万众期待的2017年中央电视台春节联欢晚会上，桂林分会场惊艳亮相，精彩呈现“央视春晚 桂林最美”。一场山水间的文化盛宴，一部世界级的山水实景演出，展示了桂林的自然生态美、历史文化美以及桂林国际旅游胜地建设令人瞩目的新成就。





指出在春晚上充分展示了桂林市哪些旅游资源，并分析其对桂林旅游业发展带来的影响。(10分)

喀斯特地貌、桂林独特的山水等自然景观(2分)、少数民族民俗风情、民俗文化(2分)。利用春晚平台(2分)，桂林山水美展示给全世界，扩大了影响，提高知名度(2分)；吸引世界各地游客前来旅游(2分)，促进旅游业的发展。

花山岩画地处广西崇左市左江及其支流明江流域的宁明县、龙州县、江州区和扶绥县，与其依存的山体、河流共同构成壮丽的左江花山岩画文化景观，它是战国至东汉时期岭南左江流域壮族先民在露天岩石上涂鸦经数千年风雨侵蚀，依然清晰可见。花山岩画全幅画长135米，高44米，画有朱红色人物1300多个，间有少量善类和器具、大焰，观其形态，使人联想到古人的祭祀、战争，欢庆等场面。它是目前为止中国发现的单体最大、内容最丰富、保存最完好的一处岩画。2016年7月入选《世界文化遗产名录》。【重庆市第一中学2017届高三下学期文科综合地理试题】



说明花山岩画的欣赏方法和其成功申遗对当地旅游开发资源的影响。(10分)

欣赏方法：置身其中，近距离观察(2分)；通过发挥想象，移情于景，情境交融，体会当年壮族先民的生活(2分)；

影响：有利于对花山岩画旅游资源的保护(2分)；有利于当地村落基础设施的完善(2分)；易引发景区容量过载，以及打扰当地居民的正常生活(2分)

(2018年山西实验中学)南锣鼓巷是一条位于北京中轴线东侧的胡同，它宽8米，全长787米，于元大都同期建成，南锣鼓巷是我国规模最大、品级最高、资源最丰富的棋盘式传统民居区。2016年初，南锣鼓巷开始控制游客流量。之后南锣鼓巷开始“瘦身”：关停28家无照低端商户，将92户“一照多店”商家合并为39家，将10家餐饮商户转为非餐饮商户。主街南口的餐馆被改造成民俗博物馆，馆内聚集了吹糖人、捏面人、老相机文化等活动或展览。

分析南锣鼓巷“瘦身”对其旅游可持续发展的有利影响。

关停、合并相关商户，改建民俗博物馆(推出吹糖人等活动)，减少对南锣鼓巷原貌的破坏，有利于还原古巷的文化特色(保持古巷的历史文化价值)(2分)，提升其长久的吸引力(经济价值)(2分)，减少餐馆和商户，控制游客流量(2分)，有利保证当地居民的正常的社会生活秩序，有利改善景区的环境卫生状况(2分)，有利保证游客的游览质量(有利旅游业向高端转型)(2分)。

广西东南县地处桂西北，云贵高原南缘。东南县是中国“将军之乡”，广西农民运动的发祥地，是邓小平、张云逸、韦拔群等老一辈无产阶级革命家领导百色起义的策源地，当地走出了韦国清、韦杰等五位开国将军。列宁岩、韦拔群故居、壮乡英雄文化园、魁星楼等一系列“红色景区”已在中国著名革命老区东南县落成。

从政治、经济、文化、环境五方面简述广西东南县发展红色旅游的意义。

政治意义：有利于加强(和改进新时期)革命传统和爱国主义教育(2分)；社会意义：带动相关产业的发展，增加就业机会(提高生活质量)(2分)；经济意义：促进革命老区经济发展，帮助革命老区人民脱贫致富(2分)；文化意义：有利于保护和利用革命历史文化遗产，推动地方文化建设(2分)。环境意义：提高当地环境质量，改善当地的基础设施。

## 客源市场

(2016·全国卷3)香榧是一种名贵干果，因其原产区和主产区在浙江诸暨东北部的枫桥地区(位置见图10)，又称枫桥香榧。这里打造香榧森林公园，每年夏季以举办“香榧节”为契机，吸引杭州、绍兴、宁波等城市的游客。

分析枫桥地区借香榧发展旅游业，把客源地定位在周边城市的主要原因。(10分)

原因：附近杭州、宁波、绍兴等城市经济发达，居民收入高，区域交通便利；(4分)与周边城市相比，该地附近多低山丘陵，夏季气温相对较低，自然环境较优越，适宜避暑；(3分)品牌影响不大，难以吸引省外游客。(3分)

(2016·海南卷)乌斯怀亚是世界上距离南极洲最近的港口城市，人口规模小。市内店铺多为饭店、餐馆和酒吧，旅店规模不大，收费较高。

分析乌斯怀亚旅店规模不大，收费较高的原因。(10分)

距南极近，旅游资源特殊，地理位置偏僻，交通可达性较差，用时长，旅费高，目标客源有限；(5分)当地生产、生活成本高；(2分)冬季寒冷漫长，一年中适宜旅游的时间短，旅店投资回报慢。(3分)

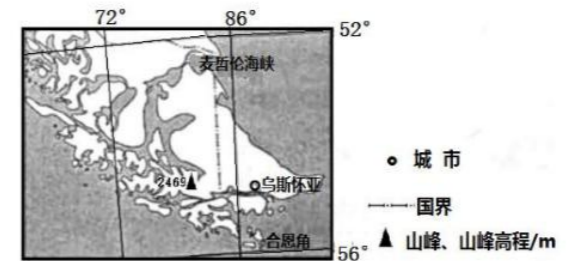
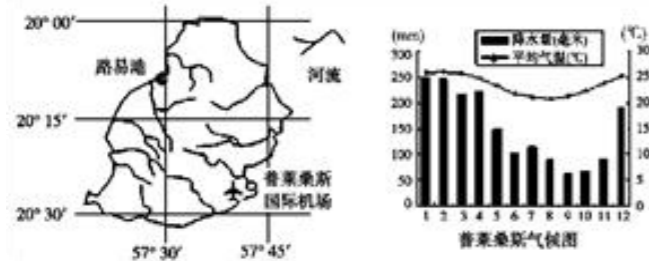


图6

材料一：毛里求斯一直是欧洲的高端海岛度假地，深受欧洲皇室成员喜爱，也是众多欧洲明星经常光顾的度假海岛。

材料二：作为非洲岛国，毛里求斯却具有浓厚的东方色彩(人口中有 2/3 以上是印度、巴基斯坦人的后裔，此外还有为数不少的华人)。且毛里求斯现有四星酒店、五星酒店以及超五星酒店 150 家以上，调查数据显示，有 35% 的游客会再回到毛里求斯旅游。

材料三：毛里求斯略图和普莱桑斯气候统计图



(1) 试从气候角度分析毛里求斯 5~11 月为旅游最佳季节的原因。(4 分)

(2) 简述毛里求斯一直成为欧洲高端旅游度假目的地的原因。(6 分)

**(1) 5~11 月气温较低，气候较凉爽；5~11 月降水量较少，有利于旅游出行 (4 分) (2) 欧洲在温带地区，而毛里求斯为热带海岛风光，且具有浓厚东方色彩的文化，旅游资源吸引力强；毛里求斯基础设施完善，接待能力强，服务质量高；交通通达性强(航空、邮轮) (6 分)**

夏威夷群岛(如图)位于太平洋海域中部，由 8 个主要岛屿、124 个小岛以及环绕在小岛附近的岛礁组合而成，为世界著名休闲度假、文化体验、海洋观光、运动探险等高端旅游活动中心地之一，以檀香山(21. N, 158. W)为旅游接待中心。各著名旅游点中，恐龙湾海洋鱼类保护区水浅、浪小、鱼多，有各种天然的珊瑚礁石和热带鱼类，是游客最喜欢去潜水的地方。因游客常常喂鱼食，湾里的鱼肥大，密度也是世界上海洋鱼类保护区平均值的 2 倍。从 1999 年开始，恐龙湾将每日游客人数限制在 3 000 名左右，并规定每星期二不开放。据此回答问题。(10 分)

(1) 分析夏威夷群岛成为世界著名高端旅游活动中心地之一的优势条件。

(2) 推测恐龙湾限定游客数量和旅游时间的目的。

**(1) 海洋性气候宜人；生态环境优异；热带海滨风光、热带鱼类、火山等优质旅游资源丰富；牧场、草裙舞等人文旅游资源独特；景点地域组合较好；集群性好；岛内外交通联系便利**



**(2) 减轻环境压力；保护当地生态；避免因游客过多造成的旅游体验降低；每周二不开放，有利于湾内动植物休养生息和景区工作人员进行清洁和管理，避免旅游资源质量下降**

(2013 年湖北卷) 阅读图文资料，完成下列要求。

神农架位于湖北省西北部，是我国著名的旅游景区，该地宜避暑，冬可滑雪，吸引了大量游客。图 9 示意神农架及周边地形，图中山峰为神农架主峰神农顶。

说明神农架夏季、冬季均吸引游客的自然原因。(10 分)

**神农架地处亚热带，(2 分) 山地海拔较高，(2 分) 植被繁茂，(2 分) 夏季凉爽，(2 分) 冬季有积雪。(2 分)**

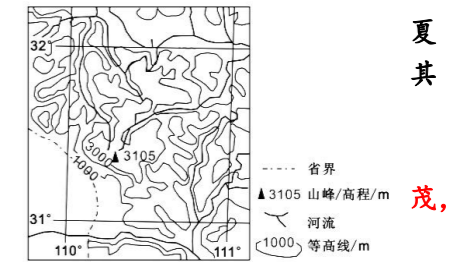


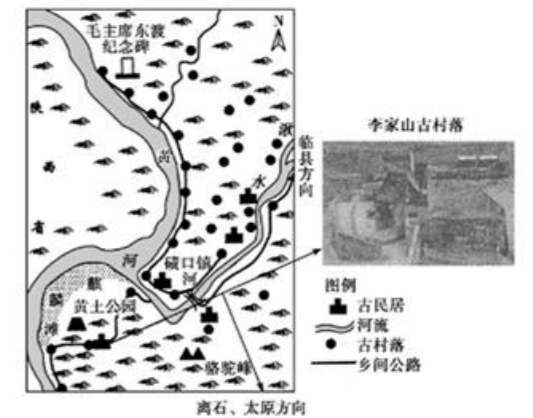
图 9

(2017 河北百校模拟) 碛口镇是山西省吕梁市临县村落最多的乡镇之一，碛口镇西临黄河，与陕西省五堡县隔河相望。该镇距太原市 230 千米，距吕梁市 50 千米。这里的古村落隐于吕梁山深处，藏于黄土高原空谷，遮于黄土红枣林中。纯朴的百姓人家和古雅的村落风貌及黄河与黄土美景吸引着全国各地的许多艺术家前来采风创作然而多年以来到这里旅游的普通游客十分稀少。图示意碛口镇主要古村落分布及古村落景观。

分析碛口镇发展旅游业的资源优势及普通游客稀少的主要原因。(10 分)

**优势：黄河和黄土高原旅游资源丰富和而独特(自然旅游资源丰富)；(2 分) 古村落资源丰富，枣林广布、组合较好(人文旅游资源丰富)。(2 分)**

**原因：交通运输落后，信息比较封闭；(2 分) 基础设施落后，接待能力较差；(2 分) 距离东部经济发达地区较远，客源稀少。(2 分)**

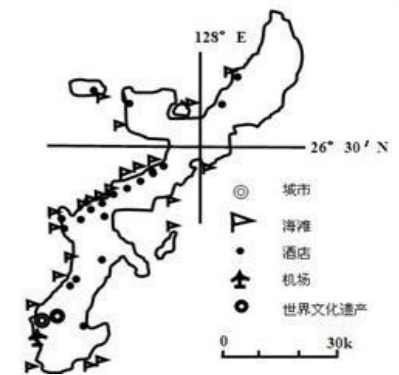


(2013 海南卷) 右图示意某著名旅游目的地。

分析该地游客数量最多，季节构成较均衡的原因。(10 分)

**地处亚热带，四周环海、深受海洋影响，气候优越，四季皆宜旅游；(2 分) 海滩、世界文化遗产等旅游资源丰富；(2 分) 距离周边客源地较近；(2 分) 景区基础设施完善，地区接待能力强；(2 分) 交通便捷。(2 分)**

(河南郑州高三一轮模拟) 近两年赴芬兰的中国游客数量大幅增长，其人均消费额也居各国游客之首。赫尔辛基机场是中国





等亚洲旅客前往欧洲最便捷的途径之一。2016年1月赫尔辛基机场成为首个启用支付宝服务的欧洲机场，目前该国多数城市的商家也开始接受这种新型的支付方式。图中左图赫尔辛基位置示意图，右图为2016~2017年中国大陆赴芬兰游客数量月度同比增速变化示意图。

说出2016~2017年中国大陆赴芬兰游客数量同比增速最快的季节，并分析其主要原因。(10分)

**冬季。(2分) 该国纬度高，冬季旅游资源(观看极光、驯鹿，滑雪、滑冰等)丰富独特；中国的农历新年在冬季，游客有较充足的旅游时间；赫尔辛基机场是欧洲的交通枢纽，交通通达度高；多数商家使用支付宝服务，方便中国游客的旅游消费；近年来中国经济快速增长，中国游客的消费能力增强。(每点2分。符合题意的答案合理即可给分)**

(湖北省黄冈中学2016届高三5月第一次模拟考试)

东湖风景名胜区位于武汉市城区的二环与三环之间，景区面积81.68平方公里，其中湖面面积33平方公里，是中国最大的城中湖。黄鹤楼位于武汉市蛇山的黄鹤矶头，面对鹦鹉洲，与湖南岳阳楼、江西滕王阁、山东蓬莱阁合称中国四大名楼。右图是近5年东湖和黄鹤楼的客流量示意图。

说出两景区的客流量差异并分析其主要原因。(10分)

**东湖的客流量远大于黄鹤楼。(2分) 原因：东湖属于自然景观(2分)，加之其他旅游项目的吸引，使游人经常光顾，且携带老人、儿童(2分)；而黄鹤楼属高品位文化景观，只对部分游客有吸引力，且一般重复观光的人较少(2分)；东湖的环境承载力比黄鹤楼大(2分)。**

历史文化名村因其本身的历史文化性和独特的建筑艺术性，而使其成为游客旅游的新去处。

下图为2010年中国历史文化名村分布图。(必做)

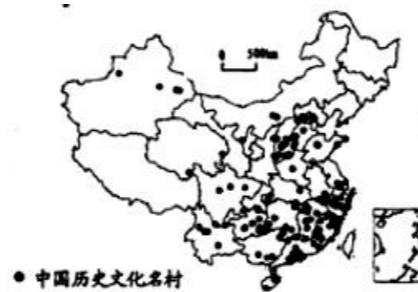
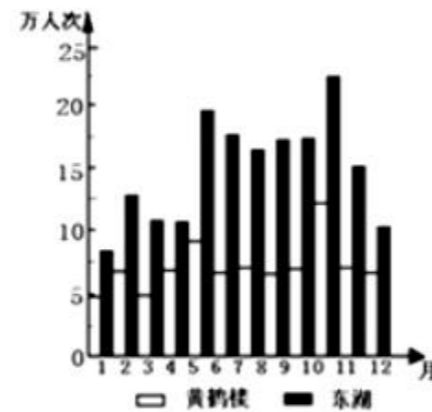
我国东南地区历史文化名村游客人数特别多，试说明原因。

**历史文化名村数量多；开发历史早；基础设施好，接待服务条件齐全；交通通达度强；离客源市场近。**

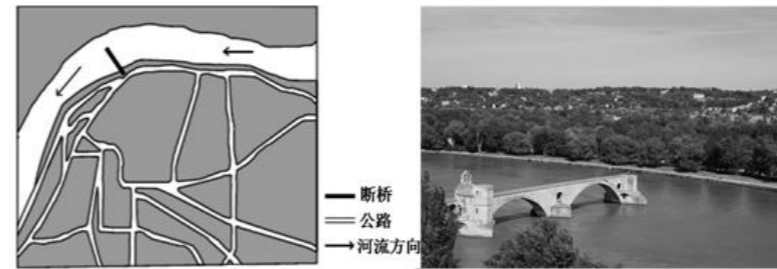
**(每点2分，共10分)**

## 旅游资源保留

法国罗纳河上的圣贝内泽桥始建于1177年，13世纪和15世纪曾大修和重建，后来被弃用。1669年右岸的桥墩被大洪水冲毁，而左岸的桥墩却受损较小而保留下来。后来左岸的残桥(下左侧



图中粗实线)成为旅游景点——圣贝内泽断桥(下图右照片)。



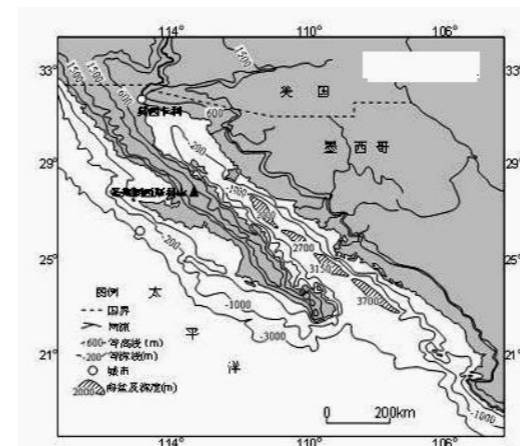
指出圣贝内泽断桥的旅游价值并分析该断桥能保留至今的自然原因。(10分)

**旅游价值：圣贝内泽断桥是古建筑，历史文化价值高(2分)；圣贝内泽断桥的独特性，具有较高的观赏(美学)价值等(2分)。**

**自然原因：左岸断桥为凸岸(2分)，河水浅、流速缓，对桥的冲蚀作用较弱(2分)，同时利于泥沙堆积，保护桥墩(2分)。**

读材料和图结合所学知识，回答下列问题。

材料一 某区域地图。



材料二 圣弗朗西斯科山岩画，位于墨西哥的南下加利福尼亚州北部，是世界文化遗产。这里留下了古老的岩画群，数量多，规模大，而且保存完好。岩画被绘制在大山洞窟的岩壁或洞顶上。作品形成于公元前1100年—公元1300年。岩画画面大部分描绘的是人与动物，有些画大小与实物相等。

分析圣弗朗西斯科山区岩画得以保存至今的地理原因。(4分)

**(1) 该地区为热带沙漠气候；高温干燥；加之地形险峻；人烟稀少(4分)。**

## 旅游开发和旅游规划

(2018年深圳南山) 天山中段的独库公路被称为“中国最险峻壮美的英雄之路”。2016年7月中旬,三位旅行者驾车从独山子出发,翻越了四座终年积雪的冰达坂(维吾尔语意为高耸入云的雪山)到达库车。出发前,三人上网查阅独库公路的背景资料时,发现独库公路沿线一些地方森林茂密,有些地方多地质灾害;三人途经冰达坂时,被壮美的雪山冰川(图)所吸引,拍下了这张照片。



你认为冰达坂地区可以开发哪些旅游项目?如何开发?(10分)

项目:摄影、科普、登山探险、冰川观光、滑雪等体验旅游。(4分)

开发:做好旅游规划;完善旅游配套的基础服务设施;依托现有区域旅游资源优势,打造冰川旅游品牌;处理好旅游环境容量与旅游规模的关系,保护冰川并防御避险(泥石流等地质灾害)

野柳地质公园位于台湾新北市万里区,经过千百万年的风化、侵蚀作用,逐渐形成了海蕈状岩、蜂窝石等绵延罗列的奇特景观。其中“女王头”(蕈状岩)是该公园最具代表性的景观,如图所示,但它修长的脖颈已经变得十分细弱。地质学家推测,“女王头”颈部大概还可以坚持10到20年,一旦遇上大地震、强风就可能会折断。

(2)近年来围绕“女王头”如何保护争议不断,请你就“女王头”的保护措施提出合理化建议。(6分)

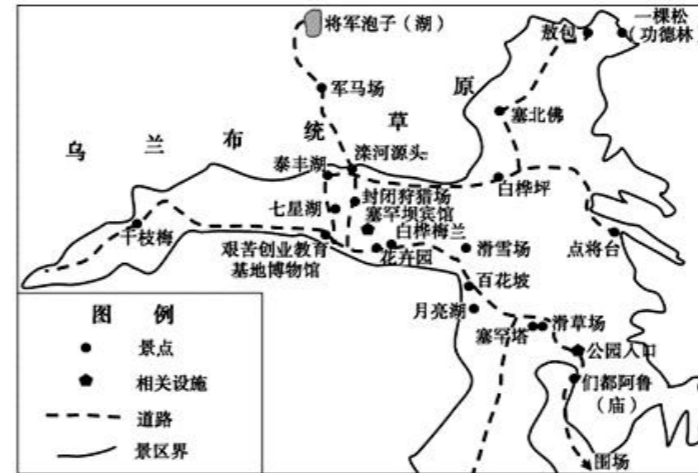
采用先进技术,补强女王头结构强度;设置隔离护栏,禁止游客近距离接触女王头;设置防风沙设施等。



(2018全国市级联考.广东)

塞罕坝位于河北省围场满族蒙古族自治县境内,清朝在此设立“木兰围场”。清末围场废弃,新中国建立之初这里呈现出“飞鸟无栖树,黄沙遮天日”的景象。上世纪60年代这里建立了

林场,2017年12月林场建设者荣获联合国环保最高荣誉——“地球卫士奖”。日前塞罕坝森林覆盖率为75.2%,下图为塞罕坝国家森林公园景区示意图。



目前塞罕坝的森林公园集中在夏秋季提供旅游产品,请为其更好地发展旅游业提出合理建议。  
突出景区的绿色(生态)特色,紧密围绕森林、草原、湖泊、山地开发景点(或旅游活动);  
加强品牌(知名度)宣传,巩固临近的京津市场(扩大全国市场);完善住宿、餐饮等基础设施,优化景区道路;利用滑雪、少数民族风情等开发冬季旅游项目;提高其防寒保暖能力;确定合理的游客承载量(合理开发森林地区),保护生态环境。

河北开滦煤矿始建于1878年,它首开我国最早的机器采矿业、铁路运输和电力工业,是我国近代工业文明的摇篮,留下了许多极具典型性、稀有性的矿业遗迹和历史文物。2008年10月,开滦唐山矿业公司内建成了一座以近代工业为主题的国家级矿山公园——开滦国家矿山公园,整个景区分为“中国近代工业博览园”“老唐山风情小镇”“开滦现代矿山工业示范园”三大园区,由“龙号机车游览线”串联组成。下图为开滦国家矿山公园景观图。



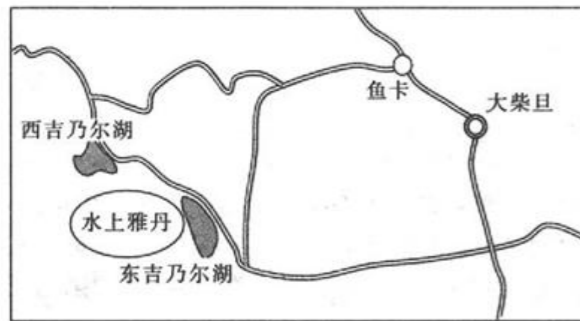
指出开滦国家矿山公园可以满足游客哪些方面的旅游需求,并列在工业遗址上建设主题公园应注意的问题。



可以满足游客在科普、行业体验、培养爱国主义精神和企业精神、娱乐休闲等方面的需求。  
 应注意的问题：加强对工业遗产的保护；注意防范地面沉降、地面裂缝等地质灾害；突出主题特色，注意科普性和休闲娱乐性的结合，注意传统性与时代性的结合等（其他答案合理可酌情给分）

## 文明旅游

大柴旦水上雅丹是青海柴达木盆地一片未开发的地区，它的四周是荒无人烟、一望无际的荒漠。但是，每年夏季该地区美丽的风景还是吸引了大量游客驱车 260km 从大柴旦镇前来，并在水上雅丹景区野营露宿。下图为大柴旦区域位置示意图。



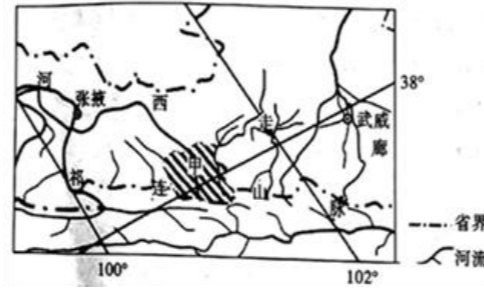
分析水上雅丹区进行野营露宿需要做好的准备条件。（10分）

大风天气多，露营设施需加强抗风设备；昼夜温差大，夜间气温低，做好防寒工作；该地区荒无人烟，准备好充足的水和食物；在当地旅游管理机构做好登记；保持通讯的畅通。

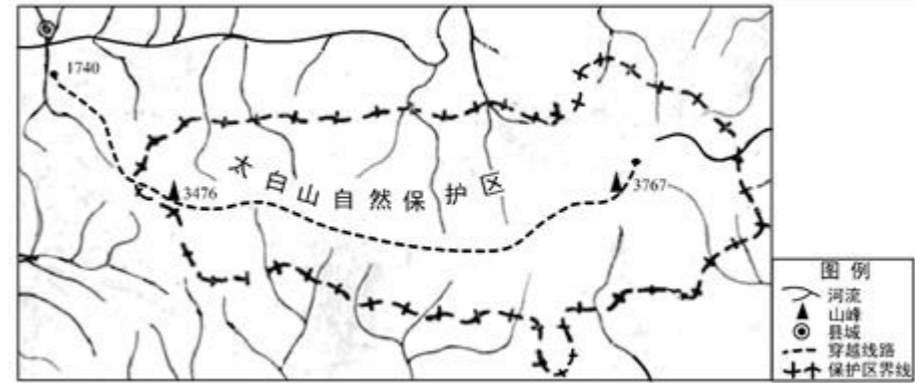
位于河西走廊的山丹军马场（左图甲区域）已有三千多年的历史，地势平坦，水草丰茂，夏季绿草如茵，冬季一片金黄，是马匹繁衍，生长的理想场所（右图），游客可举行骑马旅游、野营，参观赛马或马术表演的体验活动，并游览自然风光名胜。

（1）从气候角度说明夏季前往军马场旅游时需携带的生活用品及其理由。（4分）

（1）军马场属大陆性气候，夏季昼夜温差大，需带御寒衣物；太阳辐射强，需注意防晒，可带太阳眼镜、防晒霜等



徒步穿越山脊线旅行在我国悄然兴起。图 8 示意我国秦岭山地中部的一条著名山脊徒步穿越线路，线路长度 70-100 公里，穿越该线路需 5-7 天，穿越强度和危险度较高，最佳登山穿越时间是 6 月、9 月和 10 月。



说明该线路吸引徒步穿越者的原因并指出穿越时需要注意的问题。（10分）

原因：自然景观丰富多样/贴近自然环境；较高的挑战性/能满足徒步穿越者探险休闲的需求；山脊线路视野开阔/视角好

注意的问题：注意安全/防冻/防迷失/防自然灾害/带齐相关物品；保护自然环境。

（2014 年课标 1）近年来，一种不同于传统观光游的“深度游”悄然兴起。深度旅游是指旅游者通过徒步、自驾等方式，围绕某一特定主题获得深刻体验的旅游者活动。有 3 位旅游者结伴拟于 4 月下旬自驾前往下图所示区域（湖面高程 3196 米），进行以观鸟为主题的深度游。

指出为应对旅游地自然环境的特殊性，他们需要携带的生活用品，并说明理由。（10分）

海拔较高，氧气含量偏低，需带氧气袋、抗缺氧药品等；气压偏低，水的沸点低，需带高压锅等；空气较稀薄，太阳辐射强，需带防晒物品；气温偏低，昼夜温差大，需准备防寒衣物；此时该区域多大风，需备防风帐篷等。（每要点 2 分，10 分）